

Μετρώ ευθύγραμμα τμήματα-Περίμετρος


Ζουζουνάκια μου! Ας θυμηθούμε λίγο την περίμετρο με τη βοήθεια της κυρίας Ράνιας στο επόμενο βίντεο:

<https://www.youtube.com/watch?v=aOqmqAzyMHM>




Ωρα για λίγη εξάσκηση!

1. Μέτρησε και υπολόγισε την περίμετρο των παρακάτω σχημάτων




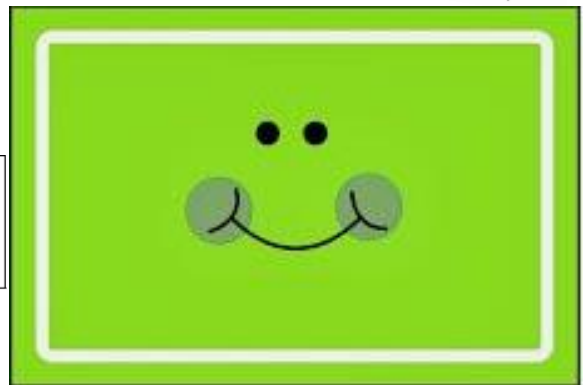
Περίμετρος τετραγώνου:

_____ + _____ + _____ + _____ = _____



Περίμετρος ορθογώνιου:


_____ + _____ + _____ + _____ = _____



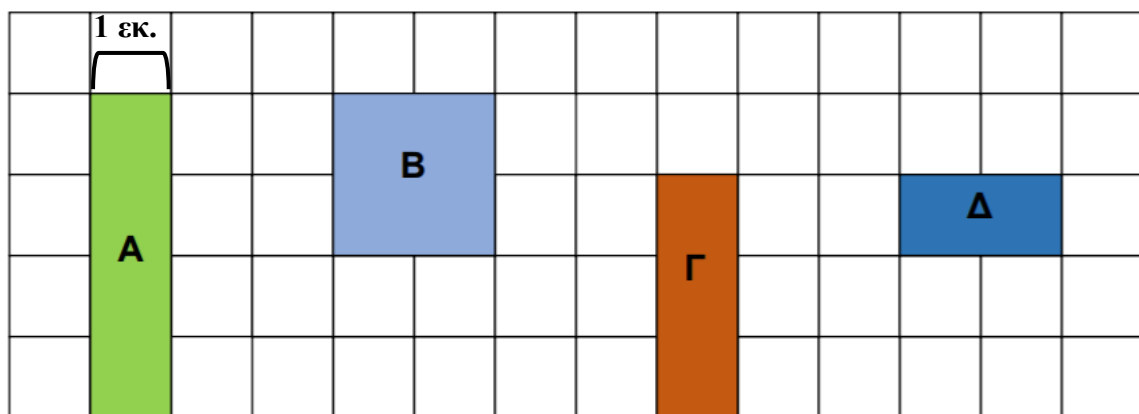
Περίμετρος τριγώνου:

_____ + _____ + _____ = _____

- Αφού έκανες την πρώτη άσκηση, τώρα είναι ώρα για την επόμενη αποστολή σου! Βρες στο δωμάτιό σου ή μέσα στο σπίτι αντικείμενα που είναι τετράγωνα, τρίγωνα και ορθογώνια και μέτρησε την περίμετρό τους!
- Επόμενη αποστολή σου είναι να φτιάξεις ένα ορθογώνιο με περίμετρο 18 εκατοστά!



- Κάθε τετραγωνάκι είναι ίσο με 1εκ. Βρες την περίμετρο κάθε σχήματος και απάντησε στην ερώτηση.



A = _____ B = _____ Γ = _____ Δ = _____



Μεγαλύτερη Περίμετρο έχει το σχήμα _____.



Ζουζουνάκια μου! Η αγαπημένη σας ώρα!!
<https://www.multiplication.com/games/play/frog-tastic-multiplication>
<https://www.multiplication.com/games/play/cave-run-multiplication>

