


«Προπαίδεια του 7»

1. Βοήθησε τη χελώνα να φτάσει στο φαγητό της. Πρέπει να χρωματίσεις τα κουτάκια των αποτελεσμάτων της προπαίδειας του 7.



7	14	19	59	79
13	21	12	78	70
27	28	35	94	63
15	20	42	49	56
50	55	22	24	27



2. Λύσε προσεχτικά:

$$(2 \times 7) + \underline{\quad\quad} = 20$$

$$(5 \times 7) + \underline{\quad\quad} = 40$$

$$(8 \times 7) + \underline{\quad\quad} = 70$$

$$(7 \times 7) - \underline{\quad\quad} = 40$$

$$(9 \times 7) - \underline{\quad\quad} = 50$$

$$(4 \times 7) - \underline{\quad\quad} = 8$$



3. Ένωσε όσα είναι ίσα:

$$(2 \times 7) = \underline{\quad\quad} * \quad * (2 \times 5) + 4 = \underline{\quad\quad}$$

$$(6 \times 7) = \underline{\quad\quad} * \quad * (10 \times 7) - 7 = \underline{\quad\quad}$$

$$(9 \times 7) = \underline{\quad\quad} * \quad * (7 \times 7) - 7 = \underline{\quad\quad}$$

$$(8 \times 7) = \underline{\quad\quad} * \quad * (10 \times 6) - 4 = \underline{\quad\quad}$$



Ώρα για λίγα προβλήματα!!

1. Η Νανά ενώνει τουβλάκια για να φτιάξει τρενάκια. Για να φτιάξει ένα τρενάκι ενώνει 7 τουβλάκια. Πόσα τουβλάκια θα χρειαστεί για να φτιάξει:



- α) 5 τρενάκια; β) 8 τρενάκια; γ) 9 τρενάκια;

Λύση:

Απάντηση: _____

2. Μια μέλισσα έχει 2 φτερά. Πόσα φτερά έχουν οι 7 μέλισσες;

Λύση:



Απάντηση: _____

3. Ο Δημήτρης κάθε μέρα τρώει από δυο φρούτα. Πόσα φρούτα θα έχει φάει σε μια εβδομάδα;

Λύση:



Απάντηση: _____

Μικρά μου ζουζουνάκια!! Ήρθε η ώρα για λίγη εξάσκηση ακόμη. Αφήστε κάτω το μολύβι και το χαρτί και μπείτε με τη βοήθεια κάποιου μεγάλου στον επόμενο σύνδεσμο:

<https://wordwall.net/resource/1055069>

Εδώ θα βρείτε ένα ωραίο παιχνίδι για να εξασκηθείτε στην προπαίδεια!! Κάνετε κλικ με το ποντίκι στο σωστό αερόστατο όταν βρίσκεται ακριβώς πάνω από το βαγόνι. Ελπίζω να σας αρέσει, καλή σας διασκέδαση!

