


«Προπαίδια του 9 και του 11»

1. Για να βοηθήσεις τον πειρατή να βρει το θησαυρό, πρέπει να λύσει γρήγορα τους γρίφους του χάρτη, δεν θυμάται όμως καλά την προπαίδια του 9, μπορείς να τον βοηθήσεις εσύ; ¹



Ο πειρατής βρήκε μέσα στο σεντούκι 9 σακούλες. Κάθε σακούλα είχε

- 9 χρυσά φλουριά
- 8 ασημένια φλουριά
- 4 χρυσά σοκολατάκια
- 6 ράβδους χρυσού

Σκέψου πόσα χρυσά φλουριά βρήκε συνολικά:


Πόσα ασημένια φλουριά βρήκε συνολικά:

Πόσα χρυσά σοκολατάκια βρήκε συνολικά:

Πόσες ράβδους βρήκε συνολικά:



¹ Πηγή: <https://www.e-selides.gr>



2. Λύσε προσεκτικά:

$$(2 \times 8) + \underline{\quad\quad} = 20$$

$$(5 \times 9) + \underline{\quad\quad} = 52$$

$$(3 \times 11) + \underline{\quad\quad} = 40$$

$$(7 \times 9) - \underline{\quad\quad} = 60$$

$$(9 \times 9) - \underline{\quad\quad} = 80$$

$$(5 \times 11) - \underline{\quad\quad} = 50$$

Ώρα για λίγα προβλήματα!!


1. Η δασκάλα έχει βάλει από 9 βιβλία σε κάθε ράφι της βιβλιοθήκης της τάξης. Πόσα βιβλία υπάρχουν σε:

α) 7 ράφια;

β) 4 ράφια;

γ) 11 ράφια

Λύση:



Απάντηση: _____


2. Σε μια ανθοσέση υπάρχουν 9 τριαντάφυλλα. Πόσα λουλούδια υπάρχουν σε 4 ανθοδέσμες;

Λύση:



Απάντηση: _____

3. Το χταπόδι έχει 8 πλοκάμια. Πόσα πλοκάμια έχουν 11 χταπόδια;



Λύση:

Απάντηση: _____

4. Το εισιτήριο για τον ζωολογικό κήπο κοστίζει 11€ για τους μεγάλους και 9€ για τα παιδιά. Πόσα χρήματα θα πληρώσει η οικογένεια της εικόνας;

Λύση:

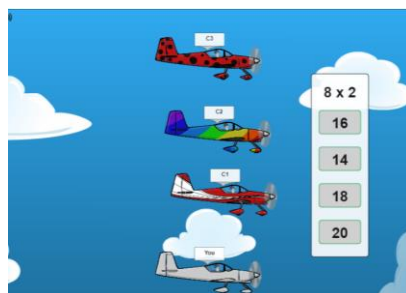


Απάντηση: _____

Μικρά μου ζουζουνάκια!! Όπως καταλάβατε ήρθε πάλι αυτή η ώρα της ημέρας που εξασκούμαστε χωρίς μολύβι και χαρτί. Μπείτε με τη βοήθεια κάποιου μεγάλου στον επόμενο σύνδεσμο:

<https://www.multiplication.com/games/play/flying-high-race>

Εδώ θα βρείτε ένα ωραίο παιχνίδι με αεροπλάνα. Κάνετε κλικ με το ποντίκι στο σωστό γινόμενο. Πριν ξεκινήσετε μπορείτε να διακοσμήσετε εσείς οι ίδιοι το αεροπλάνο σας! Καλή σας διασκέδαση!²



² Πηγή: <http://a-taxia.blogspot.com/2012/06/mathimatika-b-dimotikou.html>